


Lernaufgaben Mathematik 08.02.-12.02.2021

Thema: Unser Geld - Geometrie




Dienstag	Mittwoch	Donnerstag	Freitag
Gleichungen/ Ungleichungen	Geld	Geld	Geld
Arbeitsblatt 5	Bu S. 24/2,4,5 Arbeitsblatt 1	Ah S. 10/1,2 Arbeitsblatt 2	Arbeitsblatt 3
			Vergrößern und verkleinern
			Arbeitsblatt 4

Bei Fragen bin ich Mo bis Fr in der Zeit von 8.00 Uhr -13.00 Uhr in der Schule erreichbar.

Benutze zum Legen das Rechengeld in der Einlage im Hefter. Wenn du dein Rechengeld in der Schule hast, dann bitte Bescheid geben. Ich bringe es dir dann am Montag vorbei.


Liebe Grüße
Frau Fuchs




Geld

Name: _____

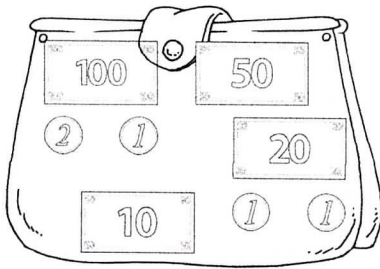
Datum: _____




Es sind _____ Euro.




Es sind _____ Euro.




Es sind _____ Euro.




Es sind _____ Euro.




Es sind _____ Euro.



Es sind _____ Euro.




Es sind _____ Euro.



Es sind _____ Euro.

Name:


Datum:




Geldbeträge legen und zeichnen

AB 2


Nimm dein Rechengeld und lege die Beträge nach. Danach zeichne die Münzen/Scheine in die Sparschweine.




5€




13€




7€




14ct




18ct




11ct




3€ 16ct




20€ 20ct




6€ 5ct



12€ 14ct



15€ 7ct



10€ 19ct

Name: _____

Datum: _____

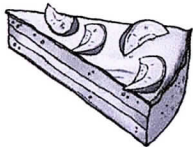
Klasse: _____

- 1 Lege mit Rechengeld.
- 2 Male die Münzen und Scheine auf.

Welche Scheine
und Münzen
brauche ich?



60 ct




2,50€



3 €



15 €



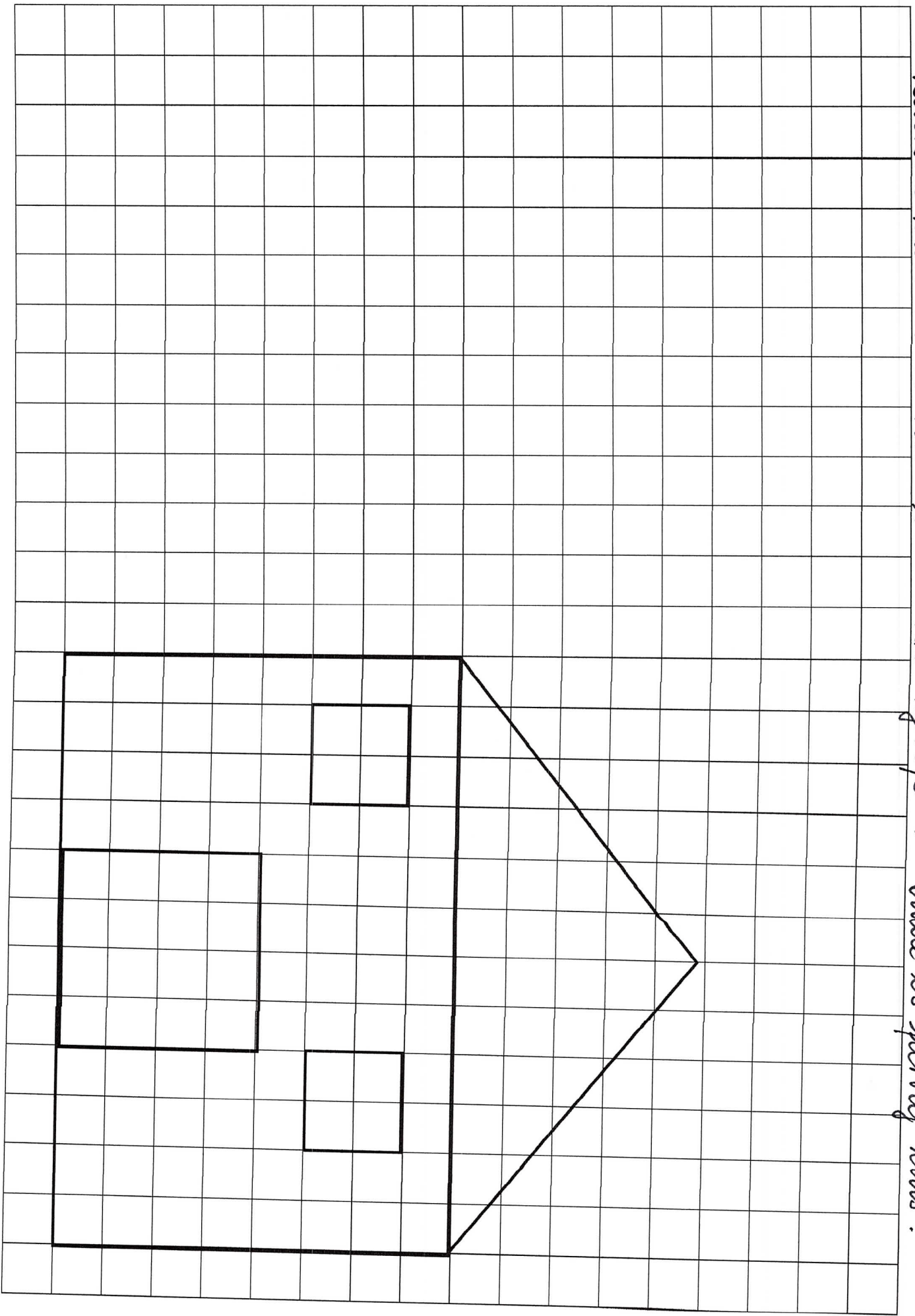
7 €



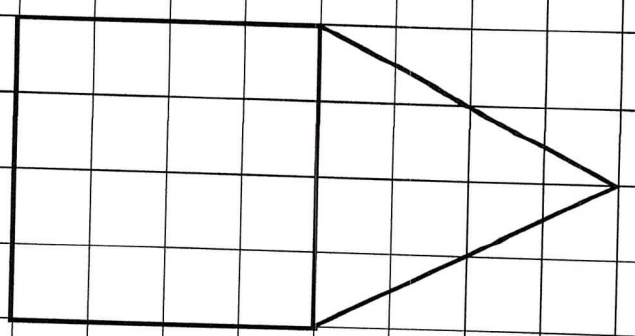
55 €

1. Zeichne das Haus mit Maßstab 1:100 ! Male es fertig aus !

134



2. Zeichne das Haus komplett so groß! Male es fertig aus!



3. Verkleinere das Haus um die Hälfte! Zeichne es dann doppelt so groß.

Das nächste Haus soll noch einmal doppelt so groß sein!

